

# COLÉGIO AFONSO PENA

Disciplina: Matemática

Curso: 1º Ano

NOTA

Nome: \_\_\_\_\_ Nº \_\_\_\_\_

Estudo Dirigido - Agosto - 2º trimestre - valor: 6,0

Objetivo: Verificar conhecimento dos números até 70; adição; quantidade; sequência numérica; número par e ímpar; sinal maior ou menor; ordem crescente e decrescente.

1) Pinte a sequência que apresenta os números contando de 2 em 2.

2	5	7	8	3	9	10
---	---	---	---	---	---	----

2	4	6	8	10	12	14
---	---	---	---	----	----	----

2) Use o sinal de  $>$  ou  $<$ .


73 \_\_\_\_\_ 40

62 \_\_\_\_\_ 68

69 \_\_\_\_\_ 25

47 \_\_\_\_\_ 3

3) Vamos observar o Saci.



Agora responda:

a) Quantos Saci há?

b) Quantos pares formaram?

c) Sobrou alguma Saci? Sim

Não






d) Então o número é:

4) Complete a sequência na ordem crescente. (1.0)

77	73	78	72	74	76	71	79	75	70
----	----	----	----	----	----	----	----	----	----

--	--	--	--	--	--	--	--	--	--

5) Em cada pote como este há 10 balas. Complete a tabela com a quantidades de balas em cada linha

Potes com 10 balas	Quantidade de balas
	
	
	
	
	

6) Arme e efetue:

$5+4=$

$7+2=$

$4+4=$

$3+3=$

--	--	--	--

Boa prova  
Tia Janayna

Boa prova  
Tia Janayna