

# COLÉGIO AFONSO PENA

Disciplina: Matemática

Curso: 4º ano

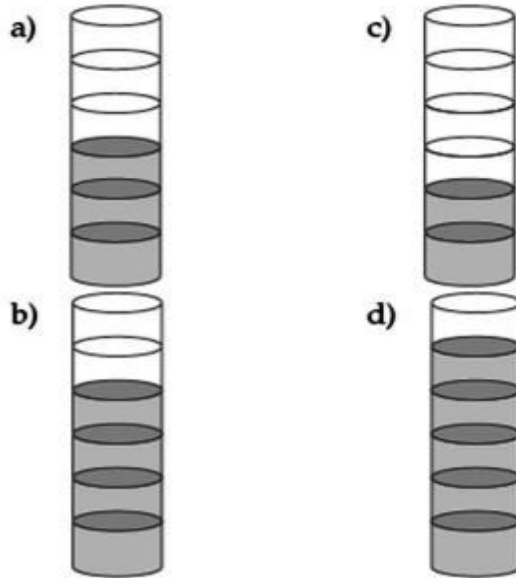
NOTA

Nome: \_\_\_\_\_ Nº \_\_\_\_\_

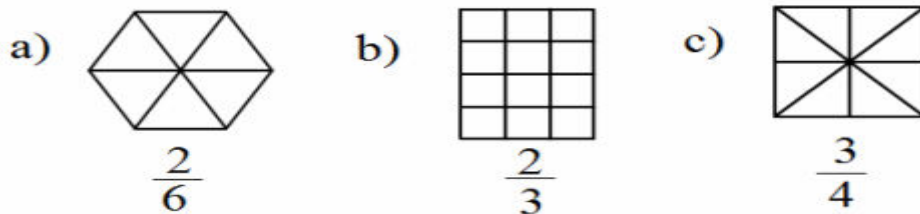
Estudo Dirigido – 3º trimestre - outubro - Valor: 10,0

Objetivos: desenvolver o raciocínio lógico através dos exercícios propostos.

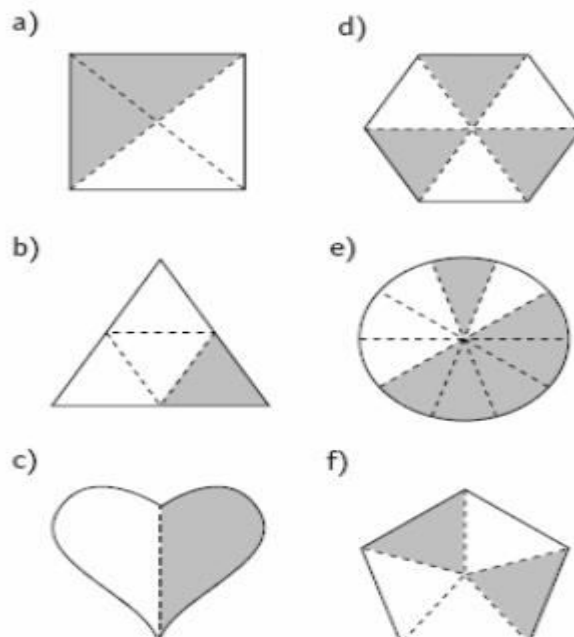
1- Qual tubo representa dois sextos SEM água?



2- Pinte o que se pede:



3- Escreva a fração de cada figura:



4- Faça o que as coordenadas indicam:

# COORDENADAS

SIGA AS COORDENADAS DO DIAGRAMA ABAIXO E DESCUBRA ONDE SE DESENVOLVE O MOSQUITO TRANSMISSOR DA DENGUE, DO ZICA E DO CHIKUNGUNYA!

B-2

C-5

D-2

B-8

F-3

I-6

G-7

J-4

I-9

E-9

E-5

I-1

D-10

5- Efetue as operações e assinale o resultado correto:

Operação			
$6213+2685=$	8898	9206	964
$1086+3244=$	433	4330	4033
$8723 - 1695=$	7028	9028	7172
$6000-154=$	6154	5846	5906
$237 \times 8=$	1896	1602	1815
$450 \times 9=$	4050	5040	3650
$368 : 8=$	460	46	54
$515 : 5=$	103	35	105

Fazer as contas numa folha em anexo.

6- Problemas:

a-) Marcelo tem 275 chaveiros. Felipe tem 187 a mais que Marcelo e Sandro tem 363. Quantos chaveiros têm os 3 juntos?

S.M. Op.

R: \_\_\_\_\_

b-) Numa campanha conseguimos arrecadar 4830 camisetas, 2670 calças e 1516 bermudas para serem doadas para algumas instituições. Quantas peças ainda podem ser doadas sabendo-se que uma instituição já recebeu 3567 peças de doação?

S.M. Op.

R: \_\_\_\_\_

c-) Numa adição, a primeira parcela é 304, a segunda é 68 a menos que a primeira e a terceira é o dobro da segunda. Qual é o total?

S.M. Op.

R: \_\_\_\_\_

Beijinhos da Tia Jack.