

COLÉGIO AFONSO PENA

Disciplina: História

Curso 2º ano

NOTA

Nome: _____

Nº _____

Estudo Dirigido – 3º trimestre -Outubro - valor 6,0

Objetivo: Verificar a compreensão na leitura e interpretação, identificar documentos, direitos e deveres das crianças.

Parte A: Leitura e interpretação

1) Leia e responda:

https://www.youtube.com/watch?v=1yDVatU_zGA

https://www.youtube.com/watch?v=StQqw8_Av4A

<https://www.youtube.com/watch?v=9d3lZHLXfYM&t=6s>

Cristo Redentor

O monumento do Cristo Redentor está localizado no Morro do Corcovado, no Rio de Janeiro, foi inaugurado em 12 de outubro de 1931, em 2007 foi eleito Maravilha do Mundo Moderno.

A estátua possui 38 metros de altura e pesa 1145 toneladas.

O acesso ao topo do Morro do Corcovado pode ser feito por estrada asfaltada ou pela centenária Estrada de Ferro do Corcovado, inaugurada pelo Imperador D. Pedro II em 1884. Na subida, é possível apreciar a Floresta da Tijuca, a maior floresta urbana do mundo.

Até 2005, os visitantes precisavam subir 222 degraus para chegar aos pés do Cristo mas hoje em dia, o trajeto pode ser feito por elevadores e uma escada rolante.

Em 2021, o Cristo Redentor comemorou 90 anos.

Responda de acordo com o texto: (1,5)

a) Onde está localizado o Cristo Redentor?

b) Quando foi inaugurado o Cristo Redentor?

c) Quem inaugurou a estrada de Ferro do Corcovado?

d) Quantos anos o Cristo Redentor fez em 12 de outubro de 2021?

e) Você conhece o Cristo Redentor?

Cristo Redentor



Parte B: Exercícios: (4,5)

1) Pinte a informação correta.

Cartas, fotos, roupas são consideradas fontes

Os objetos nunca mudam com o passar dos anos, continuam sempre iguais, não acompanham

2) Os documentos históricos podem ser classificados. Escreva que tipo de documentos está sendo usado.

a) Antônio utilizou fotos, vídeos, cartas e vídeos para conhecer o passado de sua família. Ele usou

b) A Valéria conversou com seus avós e descobriu como se vivia a 40 anos atrás. Ela usou







c) No museu, Debora observou ossos de animais e pontas de lanças encontradas há 10 mil anos atrás. Esses materiais fazem parte de

3) Responda:

a) Escreva um exemplo de documentos escritos:

b) Escreva um exemplo de documento não escrito:

4) Pinte as imagens que mostram a tecnologia atual:

 pena	 telefone	 notebook	 TV	 celular	 ampulheta
---	---	---	--	--	--

5) Sobre o Dia das Crianças responda:

a) Quando comemoramos o Dia das Crianças?

b) Encontre no caça palavras cinco direitos das crianças:

E	E	S	T	R	U	Q	T	Y	R
R	S	A	A	A	L	A	Z	E	R
T	Y	Ú	M	S	Ç	R	A	S	E
U	T	D	O	P	K	A	T	G	V
N	R	E	R	A	J	S	I	J	N
T	E	P	C	R	H	D	E	D	C
U	J	U	O	D	N	E	U	J	N
I	A	L	L	E	N	O	M	E	O
L	D	A	A	C	M	T	C	F	D
E	D	U	C	A	Ç	Ã	O	B	N